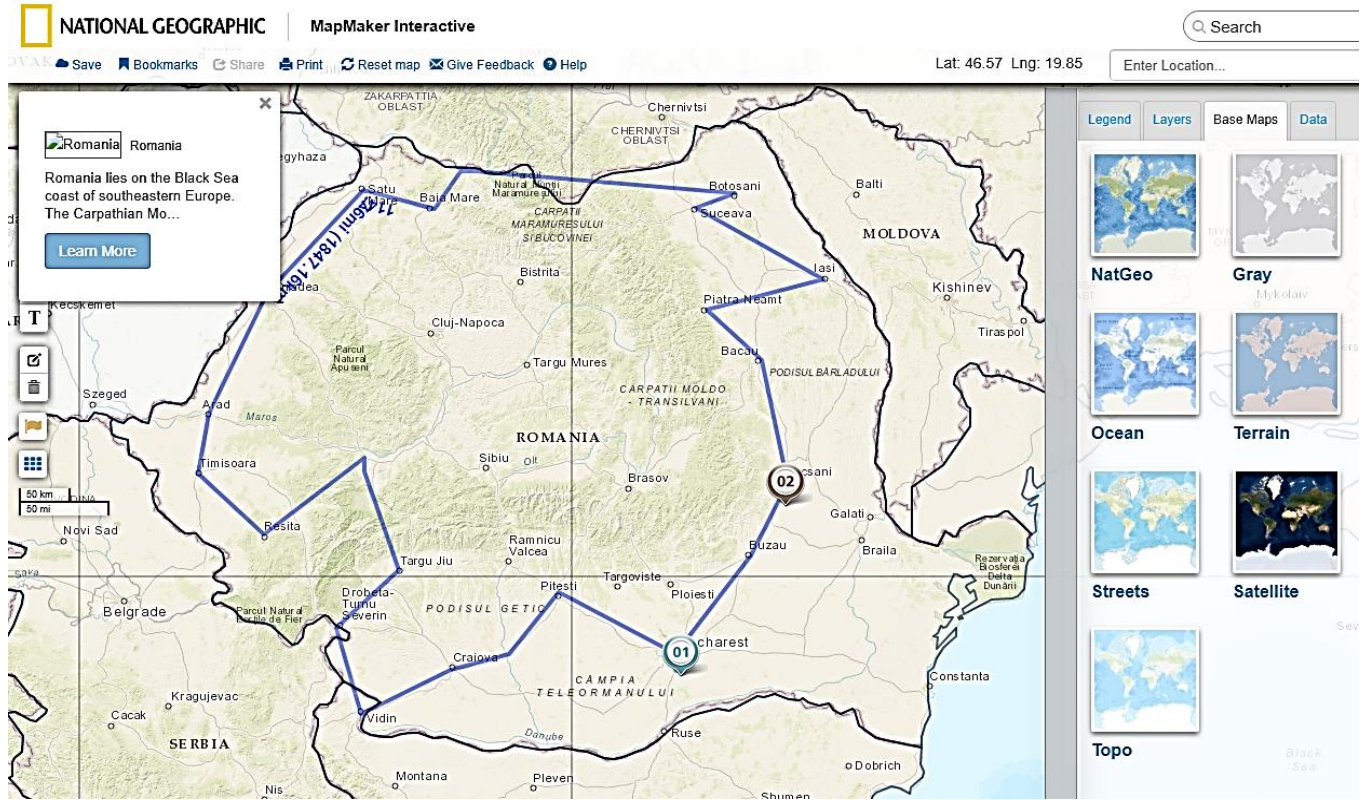


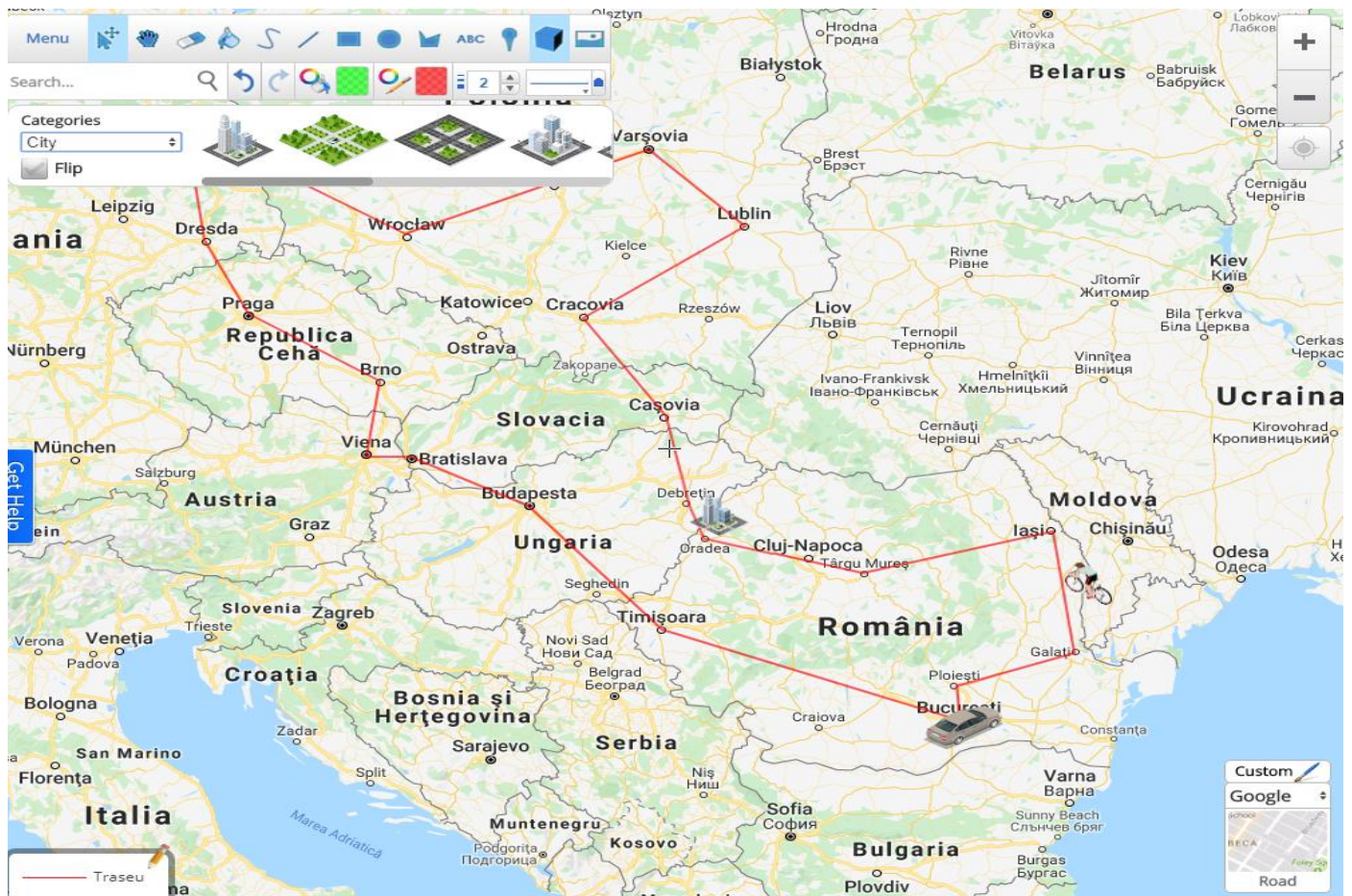
MSSC, 6D, _____ ianuarie 2020 Numele _____
Cartografie. Călătorie pe hartă. Coordonate geografice

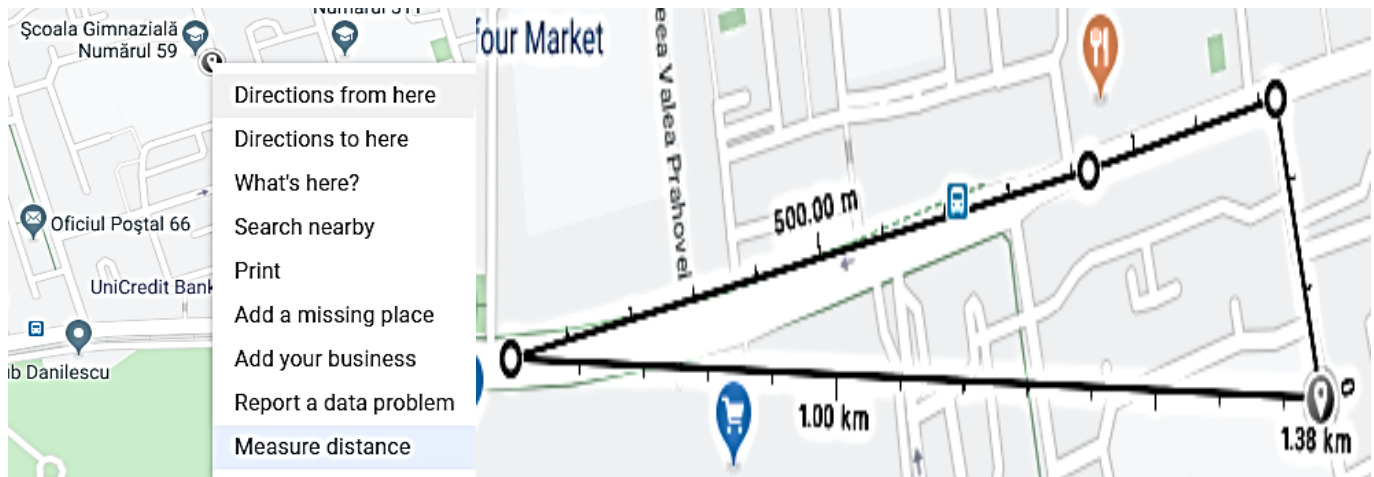
Hărți interactive

a) <https://mapmaker.nationalgeographic.org/#/>



b) <https://www.scribblemaps.com/create/#/lat=47.76886841&lng=22.36816406&z=6&t=hybrid>





Sau <https://wego.here.com>

Exerciții:

- Află distanța de la Șc. 59 până la Parcul Drumul Taberei. Cât % reprezintă distanța de la Șc. 59 până la b-dul 1 Mai din distanța Șc.59-parc?
- Folosind ultima resursă, ce traseu alegeți până la parc, dintre cele oferite de aplicație? Justificați.

Matematica și arta fotografică: Numărul de aur este denumit prin litera grecească « phi » (φ), ca omagiu adus sculptorului Phidias, care a decorat, cu sculpturile sale, Parthenonul din Atena. Urmăriți animația: <https://www.youtube.com/watch?v=4XN8LSfrEpU>. Unde ar trebui fixat obiectul de fotografiat, în dreptul ferestrei, astfel încât să obțineți cea mai armonioasă compoziție?

Măsoară brațul și antebrațul. Împarte cele două numere obținute? Ce legătură există între câtul împărțirii și numărul de aur?

